






NA	SWALI	KAZI NA JIBU
v.	<p>Bustani ya maua ina umbo la mraba. Iwapo kila upande wake ni meta 20, tafuta mzingo wake.</p> <div style="display: flex; align-items: center; justify-content: center;"> <div style="border: 1px solid black; width: 40px; height: 40px; margin-right: 10px;"></div> m 20 </div>	

5. Sanaa ya picha inaonyesha idadi ya kuku wafugwao katika mitaa mitano. Tumia picha hii kujibu swali la (i-v)

MTAA	KUKU
1	
2	
3	
4	
5	

 = inawakilisha kuku 10

i. Tafuta Jumla ya kuku wote?

ii. Mtaa upi una idadi ndogo ya kuku?

iii. Mitaa upi una idadi sawa ya kuku?

iv. Tafuta tofauti ya idadi ya kuku kati ya mtaa wa 5 na mtaa wa 2.

v. Mtaa upi una idadi kubwa ya kuku?

Namba ya Mtahiniwa _____

Jina la Mtahiniwa: _____

Jina la Shule _____

OFISI YA RAIS
TAWALA ZA MIKOA NA SERIKALI ZA MITAA
HALMASHAURI YA WILAYA YA SONGWE
PRE - NECTA

HISABATI - DARASA LA NNE

MUDA: SAA 1:30

SEPTEMBER, 2024

MAELEKEZO

- Karatasi hii ina sehemu **A, B, C, D,** na **E** zenye jumla ya maswali **matano (5)**
- Jibu maswali **yote** katika kila sehemu
- Andika majibu yote kwenye nafasi zilizoachwa wazi kwa kila swali
- Andika majibu yote kwa kutumia kalamu ya wino wa **bluu** au **mweusi**
- Simu za mkononi** na vitu vyote visivyo ruhusuwa havitakiwi katika chumba cha upimaji
- Andika jina lako**, na **shule yako** sehemu ya juu

KWA MATUMIZI YA MPIMAJI TU

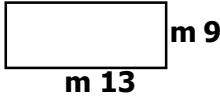
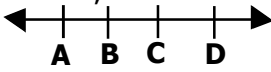
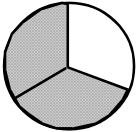
NAMBA YA SWALI	ALAMA	SAINI YA MPIMAJI
1		

MsomiBora.com

JUMLA

SAINI YA MHAKIKI

NA	SWALI	KAZI NA JIBU
1.	i. Andika 40404 kwa maneno	
	ii. Andika XLIX kwa namba za kawaida	
	iii. Katika namba 67,654, tarakimu ipi ipo katika maelfu?	
	iv. Andika 8000, 800 na 80 na 8 kama namba nzima moja.	
	v. Andika "Elfu sita, mia tano hamsini na tano" kwa tarakimu	
2.	i. Panga namba hizi kwa mtiririko wa kuanzia namba ndogo hadi kubwa: 9090, 900, 99, 09, na 899	
	ii. Andika namba ya Kirumi itakayofuata baada ya namba 38.	
	iii. Andika namba inayokosekana; 1000, 1011, 1012, 1013.	
	iv. Namba ipi kati ya zifuatazo ni kubwa kuliko zingine? 1804, 1480, 1840	
	v. Je ni namba ipi inafuata katika mtiririko wa namba zifuatazo; 1, 3, 9, 27,	

NA	SWALI	KAZI NA JIBU
3.	i. Darasa lina mistari 6. Ikiwa kila mstari una madawati 8. Je, darasa zima lina jumla ya madawati mangapi?	
	ii. $XXX \div 3 =$ (Andika jibu kwa namba za kawaida)	
	iii. $1432 + \underline{\hspace{2cm}} = 3775$	
	iv. $134 \times 34 =$	
	v. Je namba 4 itatolewa mara ngapi kwenye namba 36?	
4.	i. Tafuta mzingo wa umbo lifuaatalo; 	
	ii. Je kuna vipande vingapi vya mstari katika mchoro ufuatao; 	
	iii. Mzingo wa mraba ni sm 64. Tafuta upande mmoja	
	iv. Andika jina la sehemu ya umbo iliyotiwa kivuli 	

SEHEMU E: UFAHAMU

5. Soma kwa makini shairi lifuatayo kisha jibu maswali yanayofuata.

Watoto tunayo haki, kupata elimu bora,
Wala msitudhihaki, na kutuchapa bakora,
Hatutaki mafataki, haki zetu kuzipora,
Watoto tunasimama, kuzilinda haki zetu.

Jukumu lenu wazazi, malazi kutupatia,
Chakula nayo mavazi, vyote kututimizia,
Mtupatie ulinzi, malengo tutafikia,
Watoto tunasimama, kuzilinda haki zetu.

Tamati nimefikia, mengi nimeyagusia,
Yale niliyowaambia, yafaa kuzingatia,
Atakayepuuzia, atakuja kujutia,
Watoto tunasimama, kuzilinda haki zetu.

MASWALI

- Shairi hili lina beti ngapi? _____
- Kila ubeti wa shairi hili una mizani ngapi? _____
- Andika mstari wa kituo wa shairi hili.

- Taja jukumu moja la wazazi kwa watoto kama ilivyobainishwa katika shairi hili?

- Andika kinyume cha neno tamati kama lilivyotumika katika shairi hili. _____

Namba ya Mtahiniwa _____

Jina la Mtahiniwa: _____

Jina la Shule _____

OFISI YA RAIS TAWALA ZA MIKOA NA SERIKALI ZA MITAA HALMASHAURI YA WILAYA YA SONGWE PRE - NECTA

KISWAHILI- DARASA LA NNE

MUDA: SAA 1:00

SEPTEMBER, 2024

MAELEKEZO

- Karatasi hii ina sehemu **A, B, C, D,** na **E** zenye jumla ya maswali **matano (5)**
- Jibu maswali **yote** katika kila sehemu
- Andika majibu yote kwenye nafasi zilizoachwa wazi kwa kila swali
- Andika majibu yote kwa kutumia kalamu ya wino wa **bluu** au **mweusi**
- Simu za mkononi** na vitu vyote visivyo ruhusuwa havitakiwi katika chumba cha upimaji
- Andika jina lako**, na **shule yako** sehemu ya juu

KWA MATUMIZI YA MPIMAJI TU

NAMBA YA SWALI	ALAMA	SAINI YA MPIMAJI
1		

MsomiBora.com

JUMLA

SAINI YA MHAKIKI

SEHEMU A: IMLA

1. Sikiliza kwa makini sentensi zinazosomwa kisha ziandike kwa usahihi.

- i) _____
- ii) _____
- iii) _____
- iv) _____
- v) _____

SEHEMU B: SARUFI

2. Chagua herufi ya jibu sahihi na uandike herufi yake

- i) Kinyume cha neno rejea ni: _____
A. Rudia B. Rudi
C. Nenda D. Subiria []
- ii) Kabati, meza, kitanda, kiti na dawati kwa jina moja hujulikana kama: _____
A. Thamani B. Shule
C. Samani D. Darasa []
- iii) Umoja wa neno 'maendeleo' ni: _____
A. Muendeleo B. Maendeleo
C. Endeleo D. Mwenendo []
- iv) Silabi ipi katika neno tuliwasubiri inaonesha wakati? _
A. Tu- B. -wali-
C. -ri- D. -liv []
- v) Baba aliniambia nimwandikie _____ ya vitu ninavyohitaji kwa ajili ya shule.
A. Orodha B. Oroza
C. Orotha D. Olodha []

SEHEMU C: METHALI, NAHAU NA VITENDAWILI

3. (a) Kamilisha methali zifuatazo.

i) _____ hulia yeye.

ii) Hasira za mkizi _____

(b) Tegua vitendawili vifuatavyo

iii) Masikini huyu hata umchangeie vipi haridhiki

iv) Ubwabwa wa mwana ni mtamu _____

v) Nahau shika usukani ina maana gani?

SEHEMU D: UTUNGAJI

4. Panga sehemu za barua ya kirafiki zifuatazo katika mpangilio sahihi kwa kuzipa namba 1, 2, 3, 4 na 5

- i) Madhumuni ya barua hii ni _____ []
- ii) Mimi mtoto wenu, Suzana Amosi. []
- iii) Shule ya Msingi Msimbazi, S.L.P. 4560,
Dar es Salaam. []
- iv) 23 Septemba, 2019. []
- v) Wapendwa baba na mama, salamu sana. []

v. Our school team plays foot ball

SECTION E: COMPREHENSION

5. Read the story below and answer the questions that follow;

A bird was sitting on a tree with a piece of meat in her mouth. She was not singing. The dog said to her, "You can sing a nice song. Please sing me the song". The bird was happy to hear that and opened its mouth to sing. The meat fell from her mouth. The dog took the meat and ran away with it.

QUESTIONS

- i. Who wanted to hear a song?
The _____ wanted to hear a song.
- ii. Why did the meat fall from the bird's mouth?
The meat fell from bird's mouth because she _____
- iii. How did the bird sing the song?
The bird sang the song _____
- iv. What did the dog do after taking the meat?
The dog _____
- v. Was the bird stupid? _____

Candidate Number: _____

Candidate Name: _____

School Name: _____

**PRESIDENT'S OFFICE
REGIONAL ADMINISTRATION AND LOCAL GOVERNMENT
SONGWE DISTRICT COUNCIL
PRE - NECTA**

ENGLISH LANGUAGE - STANDARD FOUR

TIME: 1:00 HOUR

SEPTEMBER, 2024

INSTRUCTIONS:

- 1. This paper consists of section **A,B,C,D** and **E** with a total of **five (5)** questions
- 2. Answer **all** questions in each section.
- 3. Write answers in the spaces provided.
- 4. All answers must be written in **blue** or **black** ink.
- 5. **Cellular phone** are **not allowed** in the examination room.
- 6. Write the name, and name of your school

FOR THE ASSESSOR'S USE ONLY

QUESTION NUMBER.	SCORE	ASSESSOR'S INITIALS
1		
2		
3		
4		
5		
Total		

CHECKERS INITIALTIALS

SECTION A: DICTATION

1. Listen carefully the sentences read by the invigilator and write them correctly in the spaces below:

- i. _____
- ii. _____
- iii. _____
- iv. _____
- v. _____

SECTION B: VOCABULARY

2. Choose the correct answer and write its letter in the spaces provided

- i. A person works at the bank is a.....
(a). Lawyer (b) banker []
(c). Doctor (d) nurse
- ii. A person who makes chairs, tables and desks is called:
(a). Furniture (b). Engineer []
(c). Carpenter (d). Tailor
- iii. Theis seen at night.
(a) Moon rain (b) Sunshine []
(c) moon (d) sun
- iv. Choose the word that is different
(a). Doctor (b). Lawyer []
(c). Teacher (d). Summer
- v. How do you call the daughter of your sister?
(a). Cousin (b). Niece []
(c). Nephew (d). Sister

SECTION C: GRAMMAR

3. Choose the correct answer and write its letter in the spaces provided

- i. Salha's birthday is _____fifth of July.
(a). In (b). At []
(c). On (d). By
- ii. Sometimes, Tunu_____ a bicycle.
(a) Ride (b) Rides []
(c) Riding (d) Was ride
- iii. Mr. Chundi and his wife Fatuma_____ in Lindi town.
(a). Live (b). Lives []
(c). Living (d). Were live
- iv. I.....tomatoes last week.
(a). buyed (b) buy []
(c). bought (d) have bought
- v. I.....reading.....writing.
(a). like.....with (b) prefer.....to []
(c). prefer....with (d) like.....to

SECTION D: COMPOSITION

4. Choose a word from the box to fill in gaps (i to v)

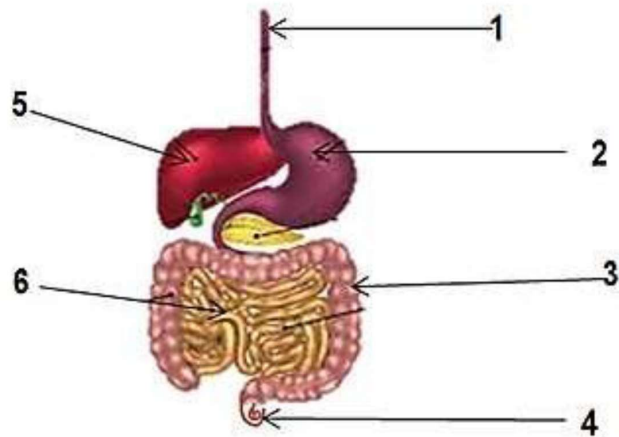
Teaches, Well, On, Letters, Unhappy, Beautiful
--

- i. Pupils come to schoolfoot
- ii. She is a.....girl.
- iii. We may communicate through.....
- iv. JumaEnglish.

MASWALI

- i. Maji yakiwa katika hali ya gesi hujulikana kama _____
- ii. Kitendo cha maji kubadilika kutoka katika hali ya kimiminika kuwa katika hali ya gesi hujulikana kama: _____
- iii. Kitendo cha maji kubadilika kutoka katika hali ya yabisi kuwa katika hali ya kimiminika huitwa _____
- iv. Kubadilika kwa maji kutoka katika hali ya kimiminika na kuwa katika hali ya yabisi huitwa _____
- v. Kizingiti cha mgando cha maji ni nyuzijoto ngapi? _____

5. Chunguza kwa makini mchoro ufuatao kisha jibu maswali yanayofuata.



- i. Mfumo wa mwili unaoonyeshwa na mchoro hapo juu unaitwa _____
- ii. Sehemu inayoonyeshwa kwa namba 2 inaitwa _____
- iii. Chakula husharabiwa katika sehemu iliyoonyeshwa kwa namba ipi? _____
- iv. Sehemu inayoonyeshwa kwa namba 1 inaitwa _____
- v. Ini inawakilishwa na namba ipi? _____

Namba ya Mtahiniwa _____

Jina la Mtahiniwa: _____

Jina la Shule _____

OFISI YA RAIS TAWALA ZA MIKOA NA SERIKALI ZA MITAA HALMASHAURI YA WILAYA YA SONGWE PRE - NECTA

SAYANSI NA TEKNOLOJIA - DARASA LA NNE

MUDA: SAA 1:00

SEPTEMBER, 2024

MAELEKEZO

1. Karatasi hii ina sehemu **A** na **B** zenye jumla ya maswali **matano (5)**
2. Jibu maswali **yote** katika kila sehemu
3. Andika majibu yote kwenye nafasi zilizoachwa wazi kwa kila swali
4. Andika majibu yote kwa kutumia kalamu ya wino wa **bluu** au **mweusi**
5. **Simu za mkononi** na vitu vyote visivyo ruhusuwa havitakiwi katika chumba cha upimaji
6. **Andika jina lako**, na **shule yako** sehemu ya juu

KWA MATUMIZI YA MPIMAJI TU

NAMBA YA SWALI	ALAMA	SAINI YA MPIMAJI
1		
2		
3		
4		
5		
JUMLA		
SAINI YA MHAKIKI		

SEHEMU A

1. Chagua jibu sahihi kisha andika herufi ya jibu hilo kwenye kisanduku ulichowekewa.

- Viumbe hai vimegawanyika katika makundi mawili, nayo ni: _____ []
(a) Viumbe hai na visivyo na uhai (b) Mimea na wanyama
(c) Viumbe vya asili na vya kutengenezwa
(d) Binadamu na wanyama
- Ipi kati ya hisi zifuatazo SIYO sifa mojawapo ya viumbe hai? _____ []
(a) Kuzaliana (b) Kukua (c) Kupumua (d) Kuzungumza
- Vitu vinavyoelea kwenye maji ni vile ambavyo: _____
(a) Ni vizito kuliko maji (b) Ni vikubwa kuliko maji
(c) Ni vyepesi kuliko maji
(d) Vina uzito mkubwa kuliko uzito wa maji []
- Chombo cha mawasiliano kinachowawezesha watu wawili au zaidi kuzungumza wakiwa mbali kila mmoja ni kipi kati ya hivi vifuatavyo? _____ []
(a) Redio (b) Simu (c) Luninga (d) Ngoma
- Shughuli ipi kati ya hizi zifuatazo haichangii katika uchafuzi wa mazingira? _____ []
(a) Ukataji miti (b) Utupaji wa takataka ovyo
(c) Usindikaji wa takataka (d) Shughuli za viwandani

2. Oanisha maneno ya kifungu A na yale ya kifungu B kwa kuandika herufi ya jibu sahihi

- | KIFUNGU A | JIBU |
|--|------|
| i. Kuongezeka kwa uzito na urefu wa viumbe hai. | [] |
| ii. Uingizaji na utoaji wa hewa. | [] |
| iii. Kitendo cha kutoa takamwili kutoka katika mwili wa kiumbe hai. | [] |
| iv. Uwezo wa viumbe hai kuzalisha viumbe wengine wenye kufanana na wao. | [] |
| v. Kitendo cha viumbe hai kusogea kutoka sehemu moja kwenda sehemu nyingine. | [] |

KIFUNGU B

- | | | |
|-------------|-----------------------|-----------|
| A. Kula | B. Kuzaliana | C. Ukuaji |
| D. Kuhisi | E. Utoajiwa takamwili | |
| F. Upumuaji | G. Kutembea | |

3. Jaza sehemu zilizoachwa wazi kwa kuchagua majibu sahihi kutoka kwenye kisanduku.

Jokofu, Skrini, Tune kifungo, Chaja, Runinga, Spika, Pembe, Kikiza, Redio

- Sehemu ya redio inayotoa sauti huitwa _____
- Kifaa cha mawasiliano kinachotoa sauti na picha za kutembea huitwa _____
- Kifaa kinachotumika kuhifadhi chakula na vinywaji ili viwe katika hali ya ubaridi na visiharibike hujulikana kama _____
- _____ ni miongoni mwa njia za zamani za mawasiliano.
- Sehemu ya simu inayoonesha taarifa hujulikana kama _____

SEHEMU B:

4. Soma kifungu cha habari kifuatacho kisha jibu maswali yanayofuata

Maji ni kimiminika kinachoundwa na atomi mbili za gesi ya Haidrojeni na atomi moja ya gesi ya Okisijeni. Alama ya kikemikali ya maji ni H_2O , ambapo H_2 inawakilisha atomi mbili za gesi ya Haidrojeni na O inawakilisha atomi moja ya gesi ya Okisijeni.

Kwa kawaida maji hutokea katika hali ya kimiminika. Hata hivyo maji yanaweza kubadilika na kuwa katika hali mbalimbali kutokana na mabadiliko ya jotoridi.

Kwa ujumla, maji yanaweza kuwa katika hali tatu. Hali hizo ni kimiminika, yabisi na gesi. Maji safi yapo katika hali ya kimiminika. Maji safi yanapochemshwa, hubadilika na kuwa mvuke. Mvuke ni maji katika hali ya gesi. Kitendo cha maji kubadilika kutoka katika hali ya kimiminika kuwa katika hali ya mvuke huitwa mvukizo. Vile vile maji safi yanapokuwa katika nyuzijoto za sentigredi sifuri ($0^\circ C$), huganda na kuwa katika hali ya yabisi au barafu. Kitendo hiki hujulikana kama kuganda. Aidha, barafu nayo ikipata joto hubadilika na kuwa kimiminika. Kitendo hiki hujulikana kama kuyeyuka.

vitendo vya mambo ambayo wanafunzi hufundishwa shuleni ili waje kuwa wazalendo na raia wema wa nchi yao ni kusimama kikakamavu wanapoimba wimbo wa taifa, kusimama bendera inapopandishwa au kushushwa, kufahamu lugha ya taifa, ramani ya nchi yao na kujua watetezi na mashujaa wa nchi yao.

Maswali:

- i. Andika kichwa cha habari cha habari hii

- ii. Mzalendo ni nani? _____
- iii. Mzalendo hupinga nini? _____
- iv. Wimbo wa Taifa unapoimbwa tunapaswa

6. Chunguza kwa makini picha zifuatazo kisha jibu maswali yanayofuata.



- i. Je, watoto wanaonekana katika picha namba 2 hapo juu wanafanya nini? _____
- ii. Watoto wanaonekana katika picha namba 1 wanafanya nini? _____
- iii. Picha ipi inaonesha mojawapo ya haki za watoto?

- iv. Kitendo kinachofanywa na watoto wanaooneshwa na picha namba 2 na vitendo vingine vya aina hiyo huitwaje?

Namba ya Mtahiniwa _____

Jina la Mtahiniwa: _____

Jina la Shule _____

**OFISI YA RAIS
TAWALA ZA MIKOA NA SERIKALI ZA MITAA
HALMASHAURI YA WILAYA YA SONGWE
PRE - NECTA**

URAI NA MAADILI - DARASA LA NNE

MUDA: SAA 1:00

SEPTEMBER, 2024

MAELEKEZO

1. Karatasi hii ina sehemu **A** na **B** zenye jumla ya maswali **Sita (6)**
2. Jibu maswali **yote** katika kila sehemu
3. Andika majibu yote kwenye nafasi zilizoachwa wazi kwa kila swali
4. Andika majibu yote kwa kutumia kalamu ya wino wa **bluu** au **mweusi**
5. **Simu za mkononi** na vitu vyote visivyo ruhusuwa havitakiwi katika chumba cha upimaji
6. **Andika jina lako**, na **shule yako** sehemu ya juu

KWA MATUMIZI YA MPIMAJI TU		
NAMBA YA SWALI	ALAMA	SAINI YA MPIMAJI
1		
2		
3		
4		
5		
6		
JUMLA		
SAINI YA MHAKIKI		

SEHEMU A: Chagua herufi ya jibu sahihi

1. Jibu swali la (i) – (v) kwa kuchagua herufi ya jibu sahihi kisha andika jibu katika kisanduku.

- i. Wimbo wa Taifa la Tanzania una beti ngapi? []
A. Nne B. tatu C. Mbili D. moja
- ii. Kila Taifa huru lina _____ []
A. Bendera B. Halina mipaka
C. Nguo za taifa D. Silaha hatari
- iii. Uwezo wa kuonyesha upendo, huruma na heshima kwa watu wote katikajamii huitwa: []
A. Kujari B. kutokujari
C. Uadui D. kutokuwa na shukrani
- iv. Kila mwananchi ni lazima atii na kuheshimu []
A. Wimbo wa Taifa B. Mawe ya Taifa
C. Uchawi D. Miujiza
- v. Waziri Mkuu wa kwanza wa Jamhuri ya Muungano wa Tanzania alitwa: []
A. Abeid Amani Karume B. Rashid Kawawa
C. Edward Moringe Sokoine
D. Julius Kambarage Nyerere

2. Oanisha kifungu cha maneno ya kifungu "A" na majibu ya kifungu "B". Kishaandika herufi ya jibu sahihi katika sehemu ya kujibia.

KIFUNGU "A"

JIBU

- i. Baba wa Taifa []
- ii. Kutunga sharia []
- iii. Mafia, Pemba na Unguja []
- iv. Mwanamke na mwanaume katika nembo ya Taifa []

KIFUNGU "B"

- A. Tanzania visiwani B. Julius Kambarage Nyerere
C. Bunge D. Umoja na mshikamano
E. Wanawakilisha ndoa

3. Kamilisha sentensi zifuatazo kwa kutumia maneno yaliyo katika kisanduku

Mzalendo, kuvuka barabara, bendera, katiba, uongozi, mwenyekiti, katibu, kukimbia

- i. Katika kamati ya shule Mwalimu mkuu ni _____
- ii. Mtu anayependa nchi yake huitwa _____
- iii. _____ ni kitabu ambacho kina sheria na muongozo wa jumuiya au taifa.
- iv. Tizama kushoto na kulia kabla ya _____

SEHEMU B: JAZA NAFASI ZILIZOACHWA WAZI

4. Jibu kipengele (i) - (v) kwa kuonesha matendo ya usaliti pamoja na matendo ya ukweli na uwazi; kwa kuweka alama ya vema (✓) katika orodha sahihi. Kipengele namba (v) umepewa kama mfano.

Matendo	Usaliti	Uwazi na uaminifu
i. Kuongea uongo		\
ii. Kuwa mwaminifu		
iii. Kukubali makosa		
iv. Kutokuwa mwaminifu		
v. Kusengenywa	✓	

5. Soma habari ifuatayo kisha jibu swali la 5 kipengele (i-iv)

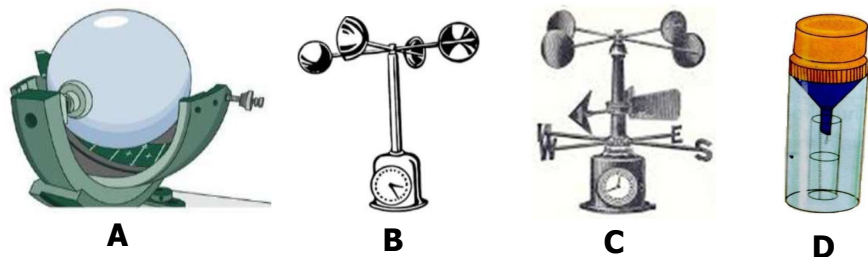
Uzalendo ni kitendo cha kuipenda nchi yako na kuwa tayari hata kufa kwa ajili ya kuitetea na kuilinda nchi yako. Mzalendo ni mtu ambaye hujitolea kuilinda, kuitetea na huipenda nchi yake. Mzalendo pia hupinga vitendo vyovyote vile ambavyo vinaweza kuhatarisha, kuharibu amani na mwelekeo wa taifa. Baadhi ya

kunapokuwa na baridi tunasema jotoridi liko chini. Kunapokuwa na baridi tunashauriwa kuvaa nguo nzito kama sweta na jaketi. Wakati wa joto kali tunavaa nguo nyepesi au nguo za pamba. Hali ya joto husababisha mito na mabwawa kukauka.

Maswali

- Kifaa kinachotumika kupima jotoridi huitwa _____
- Chanzo cha joto ni nini? _____
- Mito na mabwawa hukauka wakati gani? _____
- Nguo nyepesi na za pamba huvaliwa wakati gani? _____

5. Jifunze kwa makini vifaa vifuatanyo kisha jibu maswali kwa usahihi;



Maswali

- Kifaa kilichooneshwa kwa herufi **A** hupima nini? _____
- Kifaa ilichooneshwa kwa herufi **B** kinaitwaje? _____
- Kifaa kilichooneshwa kwa herufi **C** huitwa _____
- Kifaa kilichooneshwa kwa herufi **D** hutumika kupima hupima _____

Namba ya Mtahiniwa _____

Jina la Mtahiniwa: _____

Jina la Shule _____

OFISI YA RAIS TAWALA ZA MIKOA NA SERIKALI ZA MITAA HALMASHAURI YA WILAYA YA SONGWE PRE - NECTA

MAARIFA YA JAMII - DARASA LA NNE

MUDA: SAA 1:00

SEPTEMBER, 2024

MAELEKEZO

- Karatasi hii ina sehemu **A** na **B** zenye jumla ya maswali **matano (5)**
- Jibu maswali **yote** katika kila sehemu
- Andika majibu yote kwenye nafasi zilizoachwa wazi kwa kila swali
- Andika majibu yote kwa kutumia kalamu ya wino wa **bluu** au **mweusi**
- Simu za mkononi** na vitu vyote visivyo ruhusuwa havitakiwi katika chumba cha upimaji
- Andika jina lako**, na **shule yako** sehemu ya juu

KWA MATUMIZI YA MPIMAJI TU

NAMBA YA SWALI	ALAMA	SAINI YA MPIMAJI
1		
2		
3		
4		
5		
JUMLA		
SAINI YA MHAKIKI		

SEHEMU: A

1. Chagua jibu sahihi kisha andika jibu sahihi katika kisanduku

- i. Kipi kati ya hivi ni madhara ya utalii? []
A. Kuharibu utamaduni B. Kuwa tajiri
B. Kupata fedha za kigeni D. Chanzo cha ajira
- ii. Usafirishaji wa watu na mizigo toka sehemu moja kwenda nyingine huitwa: []
A. Usafirishaji B. upelekwaji C. Ubebwaji D. kuvushwa
- iii. Jumla ya namna ya watu wanavyoishi katika jamii fulani huitwa: []
A. matendo ya kitamaduni B. utamaduni
C. Mila D. utaifa
- iv. Kifaa kinachopima unyevu huitwa _____ []
A. kipima upepo B. Anemometa
C. Barometa D. Haigrometa
- v. _____ huhusisha vitu kama utani, vitendawili, na hadithi.
A. Ushirikiano B. utamaduni []
C. Matendo ya kitamaduni D. mila

2. Oanisha maneno ya kifungu "A" dhidi ya yale ya kifungu "B". Kisha andika herufi ya jibu sahihi katika kisanduku.

KIFUNGU "A"

- i. Biashara []
ii. Utalii []
iii. Viwanda []
iv. Kilimo []
v. Madini ya Tanzanite []
vi. Mbuga kubwa kuliko zote Tanzania []

JIBU

KIFUNGU "B"

- A. Shughuli za uchimbaji wa madini
B. Wanyama pori, fukwe na maeneo ya kihistoria
C. Kufuga wanyama na ukuzaji wa mazao
D. Kuuza na kununua bidhaa ndani na nje ya nchi
E. Marighafi kuwa bidhaa
F. Huchimbwa mkoani Manyara
G. Huchimbwa mkoani Arusha
H. Serengeti I. Ruaha

SEHEMU B:

3. Jaza nafasi zilizoachwa wazi

- i. _____ ni shughuli ya kiuchumi inayohusisha kufuga wanyama na ukuzaji wa mimea au mazao.
- ii. _____ ni siku kuu kubwa za kitaifa kwa kawaida hufanyika mara moja kwa mwaka.
- iv. Hewa ikiwa katika mwendo huitwa _____
- v. Hali ya joto au ubaridi wa kitu/kiumbe huitwa _____
- vi. Shujaa wa kabila la wamasai huitwa _____
- vii. _____ ni kitendo cha kuyatoa madini toka ardhini kwa matumizi mbalimbali ya binadamu na mashine.

4. Soma habari ifuatayo kisha jibu maswali yanayofuata

Hali ya joto au baridi ya sehemu au kitu huitwa jotoridi. Kifaa kinachotumika kupima jotoridi huitwa kipimajoto. Chanzo cha joto ni jua. Kunapokuwa na joto kali tunasema jotoridi liko juu lakini